
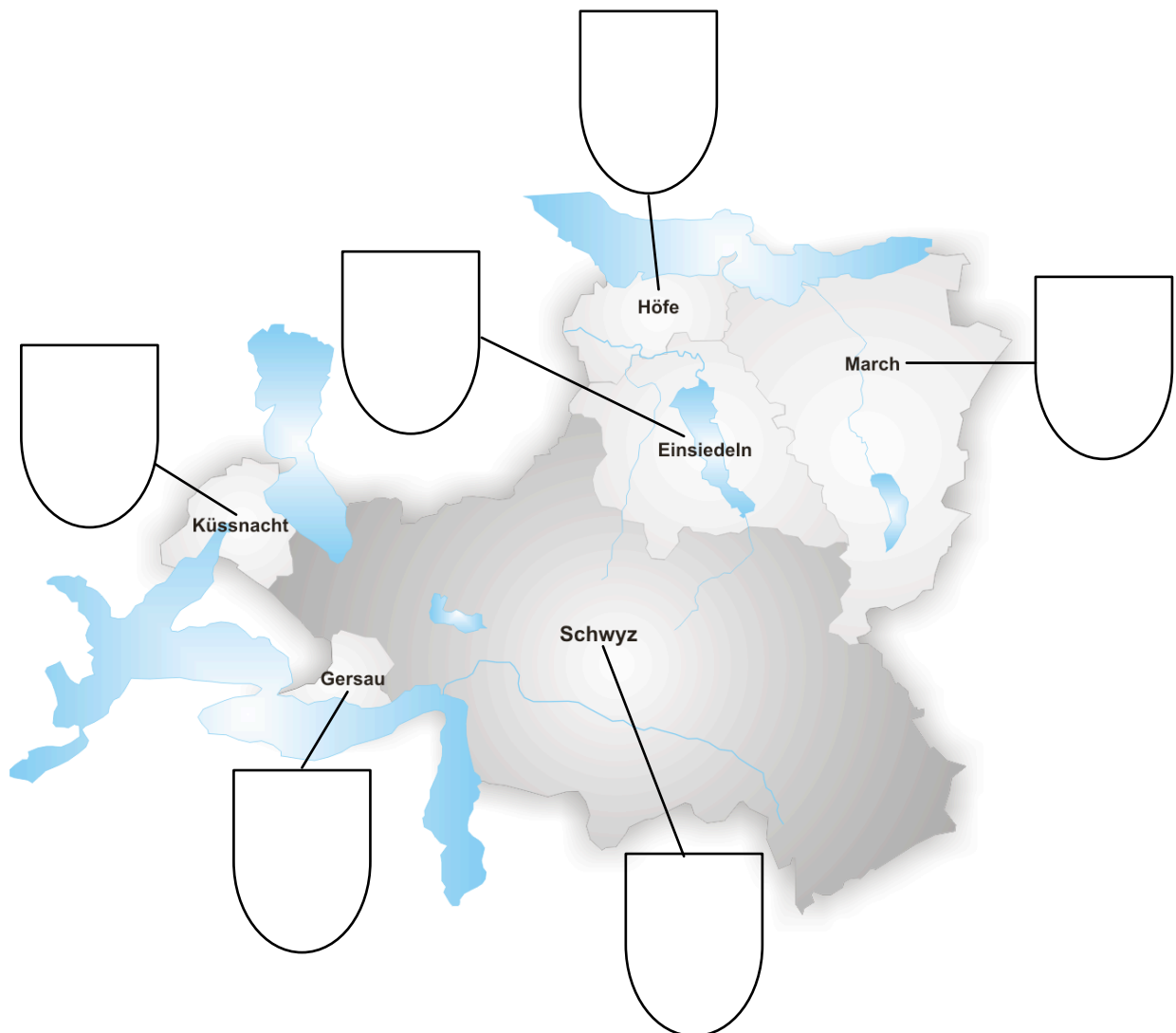


1. Schreibe die Buchstaben in das richtige leere Wappen.



A




B



C



D



E



F

2. Suche in den dir bereitgelegten Medien nach einer sinnvollen Antwort auf die Frage. Du kannst das Internet (<http://de.wikipedia.org/wiki>), den Duden/ Wortprofi oder deine Schweizer Karte zur Hilfe nehmen.

Was ist ein Bezirk?

---

---

---

---

3. Vervollständige die untenstehende Tabelle, indem du anhand der vorgegebenen Angaben die fehlenden schätzt. Benütze dazu die Bezirkskarte auf der Vorderseite und vergleiche.

Bezirk	Fläche	Einwohner	Hauptort (e)	Wappensymbol
<b>Einsiedeln</b>	km <sup>2</sup>			
<b>Gersau</b>	km <sup>2</sup>	2169		
<b>Höfe</b>	km <sup>2</sup>			
<b>Küssnacht</b>	29.35 km <sup>2</sup>			
<b>March</b>	km <sup>2</sup>			
<b>Schwyz</b>	506.4 km <sup>2</sup>	53131	Schwyz	Kreuz